
















Arbeitsplan 4.1 +/- bis 100 mZÜ > ZE+/-E

$$7 + 5 = \underline{\quad}$$

$$67 + 5 = \underline{\quad}$$

Symbol	Was & wie?	erledigt <input checked="" type="checkbox"/>	kontrolliert 
	 Lernvideo 4.1.1 ZÜ Addition 		
 1	$\begin{matrix} \textcircled{5} & \textcircled{5} & \textcircled{5} \\ 6 & 7 & 8 \end{matrix}$		
	$7 + 5 = \underline{\quad}$ $67 + 5 = \underline{\quad}$ $\textcircled{1}$		
	 Lernvideo 4.1.2 ZÜ Subtraktion 		
 1	$\begin{matrix} \textcircled{5} \\ 9 \end{matrix}$		
	$7 + 5 = \underline{\quad}$ $67 + 5 = \underline{\quad}$ $\textcircled{2}$ $\textcircled{3}$		
	 blau $\begin{matrix} \textcircled{1} & \textcircled{2} & \textcircled{3} & \textcircled{4} & \textcircled{5} \\ \textcircled{6} & \textcircled{7} & \textcircled{8} & \textcircled{9} \end{matrix}$ Wähle 		
	EVA Jhg 2 trägt ein falls passendes Spiel vorhanden		