

1. Wie viele? Schätze zuerst. Kreise dann immer 10 ein.

a) Ich schätze:

Es sind:

Zehner	Einer

b) Ich schätze:

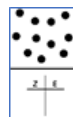
Es sind:

Zehner	Einer

c) Ich schätze:

Es sind:

Zehner	Einer



1. Wie viele? Schätze zuerst. Kreise dann immer 10 ein.

a) Ich schätze:

Es sind:

Zehner	Einer

b) Ich schätze:

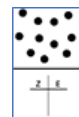
Es sind:

Zehner	Einer

c) Ich schätze:



Es sind:

Zehner	Einer



1. Wie viele? Schätze zuerst. Zeichne dann immer 10 auf eine Stange.


a) Ich schätze:



Es sind:

Z	E
---	---



b) Ich schätze:



Es sind:

Z	E
---	---

c) Ich schätze:



Es sind:

Z	E
---	---