




mein Name _____



Montag	Dienstag	Mittwoch	Donnerstag	Freitag
--------	----------	----------	------------	---------




48


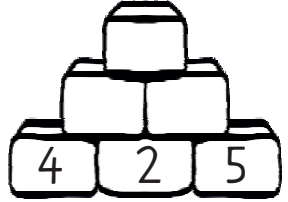
2	3		

Verdopple meine Zahl und es kommt das Ergebnis von 4 mal 4 heraus.

Aus dem Wasser schauen sechs Fußpaare heraus. Wie viele Menschen tauchen?



Streiche falsche Aufgaben durch!

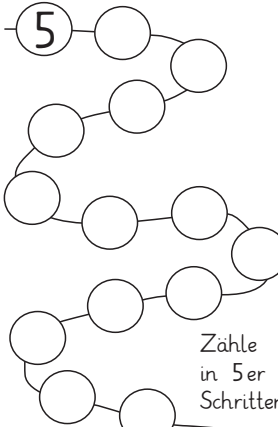
$3 \cdot 6 = 22$

$4 \cdot 8 = 32$

$9 \cdot 9 = 82$

$7 \cdot 4 = 28$

5



Zähle in 5er Schritten

Setze die Reihen fort:

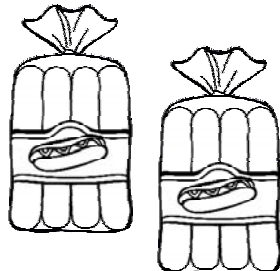
10	15		
14	21		
	27		
	18		
			15

Meine Zahl ist größer als 30 und kleiner als 50. Sie lässt sich durch sieben teilen, aber nicht durch fünf, sechs oder acht.

$\otimes \cdot \oslash = \odot$

Finde passende Zahlen!

\otimes	\oslash	\odot
\otimes	\oslash	\odot



Kreise die Zahlen ein, die nicht zur 7er Reihe gehören!

36

29 63 14


7 51 35 17

26

56 44 41 49

21 18

70 9 42 28



32

4			

Setze $<$, $=$ oder $>$ ein!

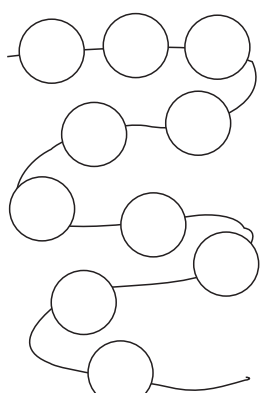
$4 \cdot 4$ ___ $6 \cdot 3$

$3 \cdot 8$ ___ $2 \cdot 9$

$8 \cdot 5$ ___ $6 \cdot 7$

$3 \cdot 3$ ___ $2 \cdot 4$

7er Reihe



Zehn Hasen hoppeln über die Wiese. Wie viele Ohren müsstest du sehen?



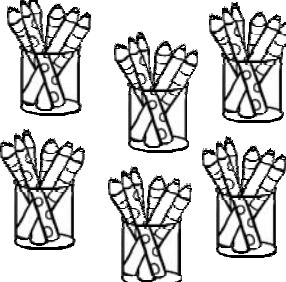
Meine Zahl ist ein Vielfaches von neun und acht.



$\blacksquare \cdot \heartsuit = \blacktriangle$

Finde passende Zahlen!

\blacksquare	\heartsuit	\blacktriangle
\blacksquare	\heartsuit	\blacktriangle



Setze die Reihen fort:

	12	24	
			40
	8		
25			40



mein Name _____

Montag

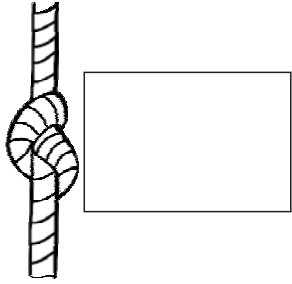
Dienstag

Mittwoch


Donnerstag

Freitag

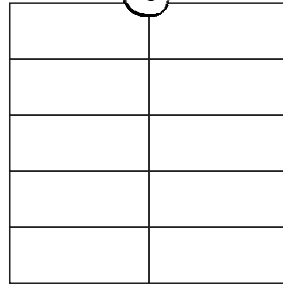
Diese Aufgabe und Lösung kann ich mir nur schwer merken:



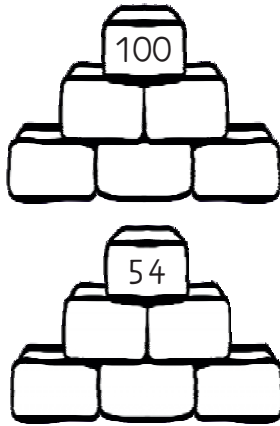
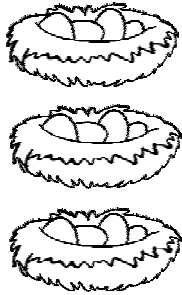
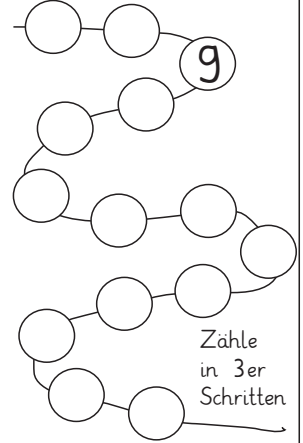
Das Achtfache meiner Zahl ist 100 weniger 20.



6er Reihe



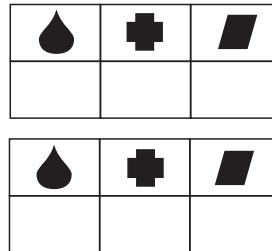
Wie viele Räder haben acht Autos?



Wie viele Finger haben neun Piraten?



Finde passende Zahlen!



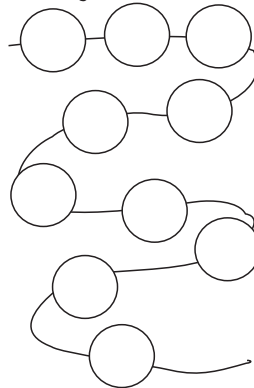
Ich esse täglich drei Äpfel. Heute möchte ich für eine Woche einkaufen gehen.



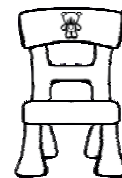
In der Nacht leuchten im Wald 18 Eulenaugen. Wie viele Eulen sind im Wald?



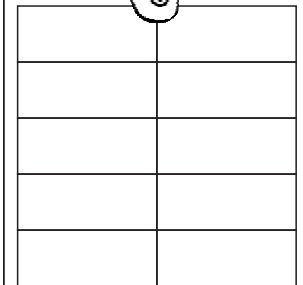
Meine Lieblingseinmaleinsreihe



Wie viele Stuhlbeine haben sieben Stühle?

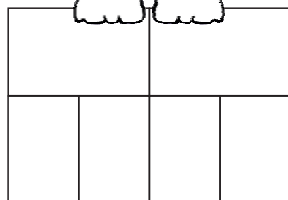


3er Reihe



Teile durch 4:

12	
28	
24	
36	
40	



Miriam hat 24 Bonbons und möchte sie fair mit ihren drei Schwestern teilen.



Im Affengehege toben sieben Affen herum. Der Tierpfleger hat 28 Bananen in das Gehege gelegt.

