


# Einmal eins Zahlenknocheien für Rätselkönige

eine  
Zaubereinmal eins Kartei  
[www.zaubereinmal eins.de](http://www.zaubereinmal eins.de)

neunzehn




Meine Zahl ist durch vier und durch acht teilbar. Sie ist das Achtfache von zwei.

1

[www.zaubereinmal eins.de](http://www.zaubereinmal eins.de)

sechsupfzig




Meine Zahl liegt zwischen 50 und 60 und ist durch sieben teilbar. Meine Zahl ist ein Vielfaches von acht.

2

[www.zaubereinmal eins.de](http://www.zaubereinmal eins.de)

fünf




Meine Zahl ist durch zwei und durch sechs teilbar. Außerdem ist sie sowohl ein Vielfaches von drei als auch von vier.

3

[www.zaubereinmal eins.de](http://www.zaubereinmal eins.de)

ganz




Meine Zahl gehört zur Viererreihe. Es ist eine Zehnerzahl. Sie ist größer als 20.

4

[www.zaubereinmal eins.de](http://www.zaubereinmal eins.de)

neunund




Meine Zahl ist ein Vielfaches von sieben. Sie taucht nur in der Siebenerreihe auf. Sie ist größer als 40 und kleiner als 50. Es ist eine Quadratzahl.

5

[www.zaubereinmal eins.de](http://www.zaubereinmal eins.de)

ganz




Meine Zahl ist eine Zehnerzahl. Sie ist Vielfaches von drei, von fünf und von sechs.

6

[www.zaubereinmal eins.de](http://www.zaubereinmal eins.de)


ganz



Meine Zahl ist um eins größer als eine Zehnerzahl. Die Zahl ist ein Vielfaches von neun.


7

[www.zaubereinmal eins.de](http://www.zaubereinmal eins.de)




Meine Zahl kannst du durch vier teilen, aber auch durch sechs. Sie ist ein Vielfaches von drei und von acht.

8




Meine Zahl ist durch sechs teilbar. Sie ist größer als 36 und kleiner als 60. Sie ist ein Vielfaches von sieben.

9




Meine Zahl kommt in der Fünferreihe vor. Es ist eine Zehnerzahl. Die Zahl liegt zwischen 40 und 60.

10




Meine Zahl gehört zur Siebenerreihe und ist durch neun teilbar. Meine Zahl ist größer als 60.

11




Meine Zahl ist eine Quadratzahl. Sie taucht auch in der Viererreihe auf und ist zudem ein Vielfaches von neun.

12




Meine Zahl ist ein Vielfaches von zwei, von drei, von sechs und von neun.

13




Meine Zahl ist durch neun teilbar. Sie ist kleiner als 30 und ein Vielfaches von drei. Die Zahl ist größer als 20.

14




Meine Zahl ist eine einstellige Zahl. Sie ist ein Vielfaches von vier und auch durch zwei teilbar.

15




Meine Zahl ist größer  
als 20.  
Sie ist durch sieben  
teilbar und ein  
Vielfaches von drei.

16




Meine Zahl ist eine  
Quadratzahl.  
Sie ist durch zehn  
teilbar.

17




Meine Zahl ist eine  
gerade Zahl.  
Sie ist ein Vielfaches  
von neun.  
Meine Zahl gehört  
zur Sechserreihe.

18




Meine Zahl ist eine  
Quadratzahl.  
Sie liegt zwischen  
20 und 30.

19




Meine Zahl ist  
einstellig.  
Sie ist durch drei und  
durch neun  
teilbar.  
Sie ist auch ein  
Vielfaches von eins.

20




Meine Zahl ist eine  
Quadratzahl.  
Sie gehört zur Vierer-  
reihe und ist  
ein Vielfaches von  
acht.

21




Meine Zahl ist eine  
Zehnerzahl und ein  
Vielfaches von sieben.

22




Meine Zahl ist durch  
zwei und durch  
sieben teilbar.  
Sie liegt zwischen  
10 und 20.

23




Meine Zahl gehört zur Siebenerreihe. Sie ist ein Vielfaches von vier und kleiner als 30.

24




Das Achtfache meiner Zahl ist 32.

25




Meine Zahl ist das Achtfache von sechs.

26




Meine Zahl gehört zur Zehnerreihe. Sie liegt zwischen 70 und 90.

27




Das Dreifache meiner Zahl ergibt 24.

28




Wenn du meine Zahl mit sieben malnimmst, dann erhältst du 42.

29




Das Neunfache meiner Zahl ergibt 81.

30




Das Zehnfache meiner Zahl ergibt 100.

31




Meine Zahl geteilt  
durch drei ergibt  
vier.

32




Wenn du meine Zahl  
verdoppelst, erhältst  
du 14.

33




Das Achtfache  
meiner  
Zahl ist 48.

34




Wenn du meine Zahl  
durch sechs teilst,  
erhältst du neun.

35




Meine Zahl mit vier  
multipliziert ergibt  
20.

36




Das Zehnfache meiner  
Zahl ist 90.

37




Meine Zahl erhältst du,  
wenn du zwei mit  
neun multiplizierst.

38




Meine Zahl liegt  
zwischen 30 und 40  
und ist ein Vielfaches  
von fünf.

39




Meine Zahl gehört zur Sechserreihe. Wenn du meine Zahl durch vier teilst, erhältst du neun.

40




Das Fünffache meiner Zahl ergibt das Zweifache von fünf.

41




Das Neunfache meiner Zahl ergibt genau 63.

42




Multipliziere meine Zahl mit zehn und du erhältst fünfmal die sechs.

43




Nimm meine Zahl mit vier mal und du erhältst das Sechsfache von zwei.

44




Wenn du meine Zahl durch sieben teilst, dann erhältst du vier.

45



Als Vielfaches von sechs und acht liegt meine Zahl zwischen 40 und 50.


46



Als Vielfaches von fünf und sechs ist meine Zahl größer als 25 und kleiner als 40.


47






Als Vielfaches von neun liegt meine Zahl zwischen 20 und 30.

56




Als Vielfaches von sechs liegt meine Zahl zwischen 10 und 20 und ist nicht durch neun teilbar.

57




Als Vielfaches von neun ist meine Zahl eine Zehnerzahl.

58




Meine Quadratzahl ist durch vier, durch acht und durch zwei teilbar.

59




Teile meine Zahl durch acht und du erhältst zwei mal vier.

60




Teile meine Zahl durch zwei und du erhältst das Doppelte von fünf.

61




Du kannst meine Zahl durch sieben und drei dividieren. Sie liegt zwischen 20 und 30.

62



Als Vielfaches von sechs liegt meine Zahl zwischen 50 und 70 und ist durch zehn teilbar.


63



Meine Zahl ist durch  
eins und zwei teilbar.  
Sie ist die  
kleinste Zahl  
der Zweierreihe.

64


[www.aubereimaleins.de](http://www.aubereimaleins.de)



Meine Zahl gehört zur  
Achterreihe und ist  
kleiner als zehn.

65


[www.aubereimaleins.de](http://www.aubereimaleins.de)



Multipliziere meine Zahl  
mit fünf und du erhältst  
zehn mal vier.

66


[www.aubereimaleins.de](http://www.aubereimaleins.de)



Als Vielfaches von  
vier ist meine Zahl auch  
eine Quadratzahl.  
Sie liegt zwischen  
30 und 40.

67


[www.aubereimaleins.de](http://www.aubereimaleins.de)



Meine Zahl ist die  
vierte Zahl in der  
Siebenerreihe.

68


[www.aubereimaleins.de](http://www.aubereimaleins.de)



Als fünfte Zahl der  
Achterreihe ist meine  
Zahl auch eine  
Zehnerzahl.

69


[www.aubereimaleins.de](http://www.aubereimaleins.de)



Wenn du meine  
Zahl durch acht  
teilst, dann erhältst du  
drei.

70


[www.aubereimaleins.de](http://www.aubereimaleins.de)



Multipliziere meine  
Zahl mit sieben und  
du erhältst das  
Doppelte  
von 21.

71


[www.aubereimaleins.de](http://www.aubereimaleins.de)



Nimm meine Zahl  
mit sechs mal und  
das Ergebnis lautet  
54.

72


[www.eaubereinmaleins.de](http://www.eaubereinmaleins.de)



Als achte Zahl der  
Siebenerreihe ist meine  
Zahl auch die  
siebte Zahl der  
Achterreihe.

73


[www.eaubereinmaleins.de](http://www.eaubereinmaleins.de)



Als Vielfaches von  
vier und acht liegt  
meine Zahl zwischen  
30 und 40.

74


[www.eaubereinmaleins.de](http://www.eaubereinmaleins.de)



Teile meine Zahl  
durch 5 und du  
erhältst zwei.

75


[www.eaubereinmaleins.de](http://www.eaubereinmaleins.de)



Als Vielfaches von neun  
ist meine Zahl eine  
Quadratzahl und  
größer als 50.

76


[www.eaubereinmaleins.de](http://www.eaubereinmaleins.de)



Dividiere meine Zahl  
durch drei und du  
erhältst fünf.

77


[www.eaubereinmaleins.de](http://www.eaubereinmaleins.de)



Dividiere meine Zahl  
durch drei und  
du erhältst drei.

78


[www.eaubereinmaleins.de](http://www.eaubereinmaleins.de)



Nimm meine Zahl  
mit vier mal und das  
Ergebnis ist zwei mal  
zehn.


79

[www.eaubereinmaleins.de](http://www.eaubereinmaleins.de)




Wenn du meine Zahl durch neun teilst, dann erhältst du sieben.

80




Als Vielfaches von neun und drei liegt meine Zahl zwischen 20 und 30.

81




Meine Zahl ist das Zweifache von sieben.

82



Meine Zahl ist das Dreifache von sechs.

83




Meine Zahl liegt zwischen 20 und 30. Sie ist durch sieben und durch vier teilbar.

84




Als Zehnerzahl kannst du meine Zahl durch fünf teilen.

85




Teile meine Zahl durch sieben und du erhältst fünf.

86




Meine Zahl ist die siebte Zahl in der Viererreihe.

87




Meine Zahl lässt sich durch sechs und acht teilen.  
Sie liegt zwischen 40 und 50.

88




Wenn du meine Zahl verdoppelst, dann erhältst du dasselbe wie acht mal vier.

89




Meine Zahl ist kleiner als 20.  
Du erhältst sie, wenn du zwei verneunfachst.

90




Meine Zahl gehört zur Dreierreihe.  
Sie ist größer als 15 und kleiner als 20.

91




Meine Zahl ist ein Vielfaches von fünf.  
Sie ist die fünfte Zahl in der Siebenerreihe.

92




Multipliziere meine Zahl mit vier und du erhältst 16.

93



Meine Zahl ist ein Vielfaches von vier und kleiner als 30.  
Meine Zahl ist durch fünf teilbar.

94



Dividiere mich durch acht und du erhältst das Zweifache von drei.

95

