


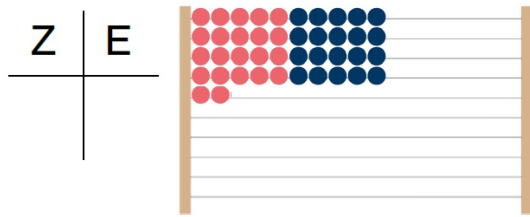
Name:

Datum:

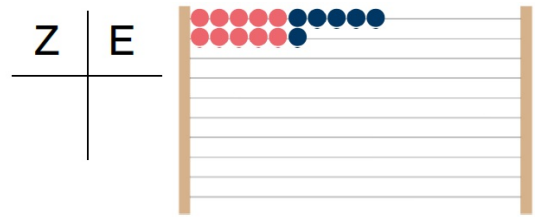


1 Erfolgskontrolle Zahlenbilder erkennen, Z+E

1 Zahlenbilder lesen



$$\underline{\quad} + \underline{\quad} = \underline{\quad}$$



$$\underline{\quad} + \underline{\quad} = \underline{\quad}$$

2 Zahlenbilder zeichnen

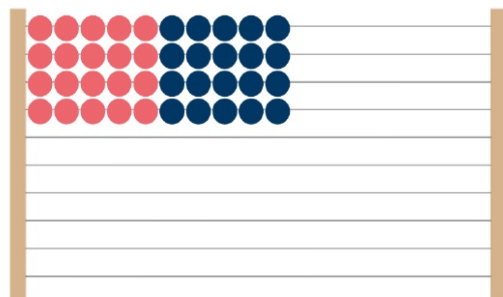


37

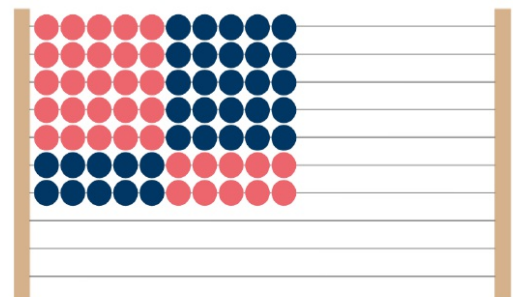


73

3 Zeichne am Rechenrahmen ein. Rechne aus.



$$40 + 6 = \underline{\quad}$$

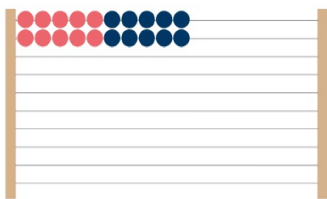


$$70 + 4 = \underline{\quad}$$

4

Nutze die Zahlenbilder. Rechne im Kopf

a)

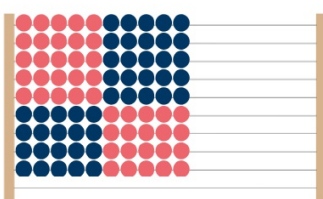


$$20 + 2 = \underline{\quad}$$

$$20 + 4 = \underline{\quad}$$

$$20 + 6 = \underline{\quad}$$

b)

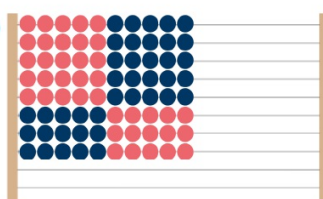


$$90 + 3 = \underline{\quad}$$

$$90 + 5 = \underline{\quad}$$

$$90 + 7 = \underline{\quad}$$

c)



$$80 + 6 = \underline{\quad}$$

$$80 + 3 = \underline{\quad}$$

$$80 + 0 = \underline{\quad}$$

5

Was gehört zum Zahlenbild. Male gelb oder grün an.
Manche Felder darfst du nicht anmalen.

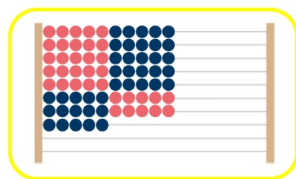


63

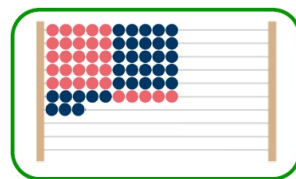
7Z + 5E

3Z + 6E

70 + 5



gelb



grün

60 + 3

6Z + 3E

75

fünfundsiebzig

60 + 5

dreiundsechzig

Du kannst.....



... Zahlenbilder lesen.

... Zahlenbilder zeichnen.

... Zahlenbilder am Rechenrahmen einzeichnen.

... Zehner und Einer zusammenrechnen.

... Zahlenbilder lesen und zuordnen.

... Zahlenbilder erkennen und Z+E rechnen

Unterschrift Erziehungsberechtigte/r:

