

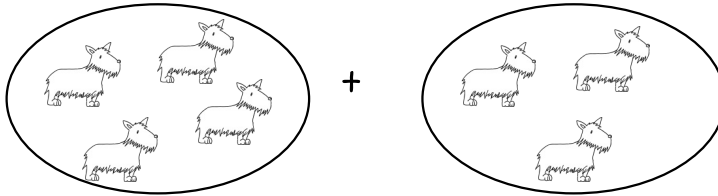
Name:

Datum:



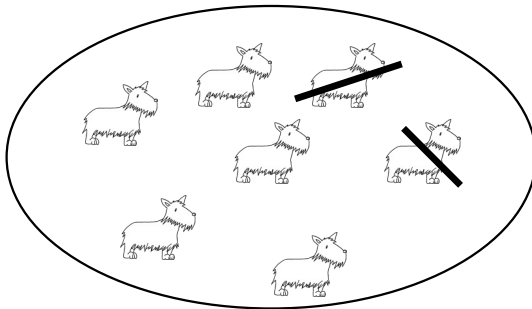
3.2 Erfolgskontrolle Addition und Subtraktion verstehen

1 Plus-Aufgaben erstellen:



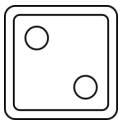
$$\underline{\quad\quad} + \underline{\quad\quad} = \underline{\quad\quad}$$

2 Minus-Aufgaben erstellen:

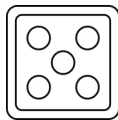


$$7 - \underline{\quad\quad} = \underline{\quad\quad}$$

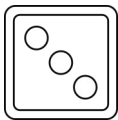
3 Plus-Aufgabe Würfel




+



$$\underline{\quad\quad} + \underline{\quad\quad} = \underline{\quad\quad}$$




+




$$\underline{\quad\quad} + \underline{\quad\quad} = \underline{\quad\quad}$$

4 Plusaufgaben mit Bildern

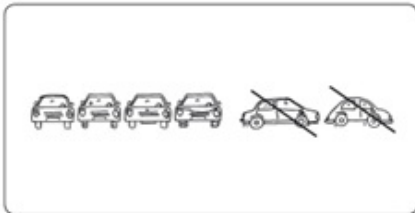


___ + ___ = ___




___ + ___ = ___

5 Minusaufgaben mit Bildern



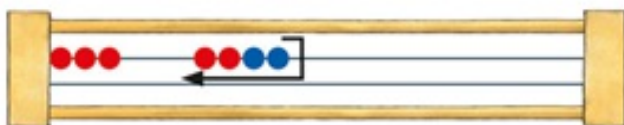
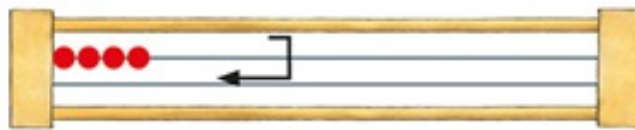
___ - ___ = ___



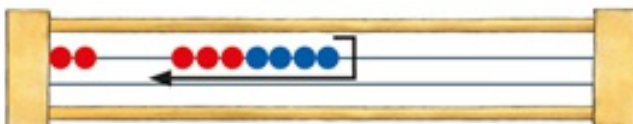
___ - ___ = ___

6 Rechenrahmen Plus

4 + 2 = ___

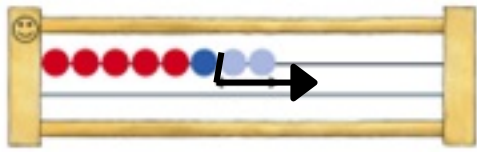


___ + ___ = ___

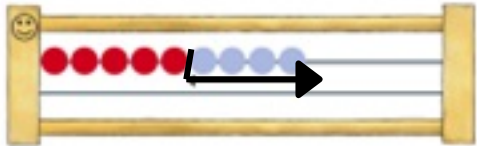


___ + ___ = ___


7 Rechenrahmen Minus



$$\underline{\quad} - \underline{\quad} = \underline{\quad}$$



$$\underline{\quad} - \underline{\quad} = \underline{\quad}$$





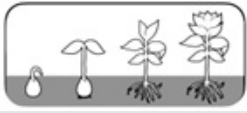
8 Plusaufgaben anmalen und ausrechnen 



$$6 + 4 = \underline{\quad}$$



$$3 + 4 = \underline{\quad}$$

Du kannst ...				
... Plusaufgaben erstellen.				
... Minusaufgaben erstellen.				
... Plusaufgaben mit Bildern rechnen.				
... Minusaufgaben mit Bildern rechnen.				
... am Rechenrahmen plus rechnen.				
... am Rechenrahmen minus rechnen.				
... Plusaufgaben anmalen und ausrechnen.				
... Plus- und Minusaufgaben bis 10 sicher lösen.				
Unterschrift Erziehungsberechtigte/r:				