



mein Name \_\_\_\_\_

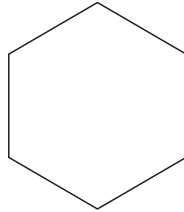
Montag	Dienstag	Mittwoch	Donnerstag	Freitag
--------	----------	----------	------------	---------

• 3	
3	
6	
8	
10	

4	6	9
4	7	3

Einmaleinstürme

Ich suche das Fünffache von sieben.



\_\_\_\_\_

\_\_\_\_\_


Im Blumenladen stehen sechs Eimer. In jedem Eimer sieht man sieben Tulpen.



Welche Bälle gehen ins Tor?

2er Reihe

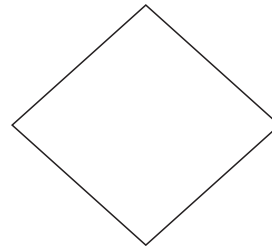
Teile meine Zahl durch acht und das Ergebnis wird neun sein.



24

Finde Aufgaben!  
Male in derselben Farbe an!

Meine Zahl ist durch neun teilbar und liegt zwischen 70 und 80.



20	35	42

Einmaleinstürme

	12
18	
	48

	12
18	
	48

9	9	9
8	9	7

Einmaleinstürme

Passende Fische gleich färben!


27	


Welche Zahlen zwischen 40 und 50 sind durch sieben teilbar?

--	--

Welche Zahl zwischen 60 und 70 ist durch acht teilbar?






mein Name \_\_\_\_\_

Montag	Dienstag	Mittwoch	Donnerstag	Freitag
--------	----------	----------	------------	---------

 <table border="1" style="width: 100%; height: 100%;"> <tr><td style="text-align: center;">9</td><td></td></tr> <tr><td style="text-align: center;">7</td><td></td></tr> <tr><td style="text-align: center;">3</td><td></td></tr> <tr><td style="text-align: center;">4</td><td></td></tr> </table>	9		7		3		4		 <table border="1" style="width: 100%; height: 100%;"> <tr><td style="text-align: center;">42</td><td style="text-align: center;">48</td><td style="text-align: center;">49</td></tr> <tr><td></td><td></td><td></td></tr> <tr><td></td><td></td><td></td></tr> <tr><td></td><td></td><td></td></tr> </table> <p style="text-align: center;">Einmaleinstürme</p>	42	48	49										<p>Schreibe die Zahlen der Achterreihe auf!</p> <table border="1" style="width: 100%; height: 100%;"> <tr><td></td><td></td></tr> <tr><td></td><td></td></tr> <tr><td></td><td></td></tr> <tr><td></td><td></td></tr> <tr><td></td><td></td></tr> <tr><td></td><td></td></tr> </table>													<p>Immer das Doppelte:</p> <table border="1" style="width: 100%; height: 100%;"> <tr><td style="text-align: center;">4</td><td></td></tr> <tr><td style="text-align: center;">7</td><td></td></tr> <tr><td style="text-align: center;">8</td><td></td></tr> <tr><td style="text-align: center;">10</td><td></td></tr> <tr><td style="text-align: center;">6</td><td></td></tr> </table>	4		7		8		10		6		 <table border="1" style="width: 100%; height: 100%;"> <tr><td></td><td></td></tr> <tr><td></td><td></td></tr> <tr><td></td><td></td></tr> <tr><td></td><td></td></tr> </table>								
9																																																						
7																																																						
3																																																						
4																																																						
42	48	49																																																				
4																																																						
7																																																						
8																																																						
10																																																						
6																																																						
 <table border="1" style="width: 100%; height: 100%;"> <tr><td></td><td></td></tr> <tr><td></td><td></td></tr> </table>					<p>Kreise die Zahl ein, die in keiner Einmaleinsreihe vorkommt!</p> <p style="text-align: center;">             12    24    16              42    50    63              31    49    20              32    28    64    81         </p>	 <table border="1" style="width: 100%; height: 100%;"> <tr><td style="text-align: center;">6</td><td style="text-align: center;">4</td><td style="text-align: center;">9</td></tr> <tr><td style="text-align: center;">5</td><td style="text-align: center;">6</td><td style="text-align: center;">8</td></tr> </table> <p style="text-align: center;">Finde Aufgaben! Male in derselben Farbe an!</p>	6	4	9	5	6	8	<p>Durch welche Zahlen lässt sich 45 teilen?</p> <p style="text-align: center;">     </p> <table border="1" style="width: 100%; height: 100%;"> <tr><td></td><td></td></tr> <tr><td></td><td></td></tr> </table>																																									
6	4	9																																																				
5	6	8																																																				
 <table border="1" style="width: 100%; height: 100%;"> <tr><td></td><td></td></tr> <tr><td></td><td></td></tr> </table>					 <table border="1" style="width: 100%; height: 100%;"> <tr><td></td><td></td></tr> <tr><td></td><td></td></tr> </table>					<p>Wenn ich meine Zahl durch vier teile, erhalte ich neun.</p> <p style="text-align: center;">   <table border="1" style="width: 100%; height: 100%;"> <tr><td></td></tr> </table> </p>		<p>Passende Fische gleich färben!</p> <p style="text-align: center;">               </p>	<p>Eine Katze hat vier Beine. Frau Lehmann hat sechs Katzen.</p> <p style="text-align: center;"> </p>																																									
<p>Ich suche das Dreifache der Hälfte von 12.</p> <p style="text-align: center;">   <table border="1" style="width: 100%; height: 100%;"> <tr><td></td></tr> </table> </p>		 <table border="1" style="width: 100%; height: 100%;"> <tr><td></td></tr> </table>		<p>Meine Zahl liegt zwischen zehn und 20 und lässt sich durch acht teilen.</p> <p style="text-align: center;">   <table border="1" style="width: 100%; height: 100%;"> <tr><td></td></tr> <tr><td></td></tr> </table> </p>			 <table border="1" style="width: 100%; height: 100%;"> <tr><td></td></tr> <tr><td></td></tr> </table>			<table border="1" style="width: 100%; height: 100%;"> <tr><td></td><td></td><td></td><td></td></tr> <tr><td></td><td></td><td></td><td></td></tr> <tr><td></td><td></td><td></td><td></td></tr> <tr><td></td><td></td><td></td><td></td></tr> <tr><td></td><td></td><td></td><td></td></tr> <tr><td></td><td></td><td></td><td style="text-align: center;">70</td></tr> </table>																								70																				
			70																																																			