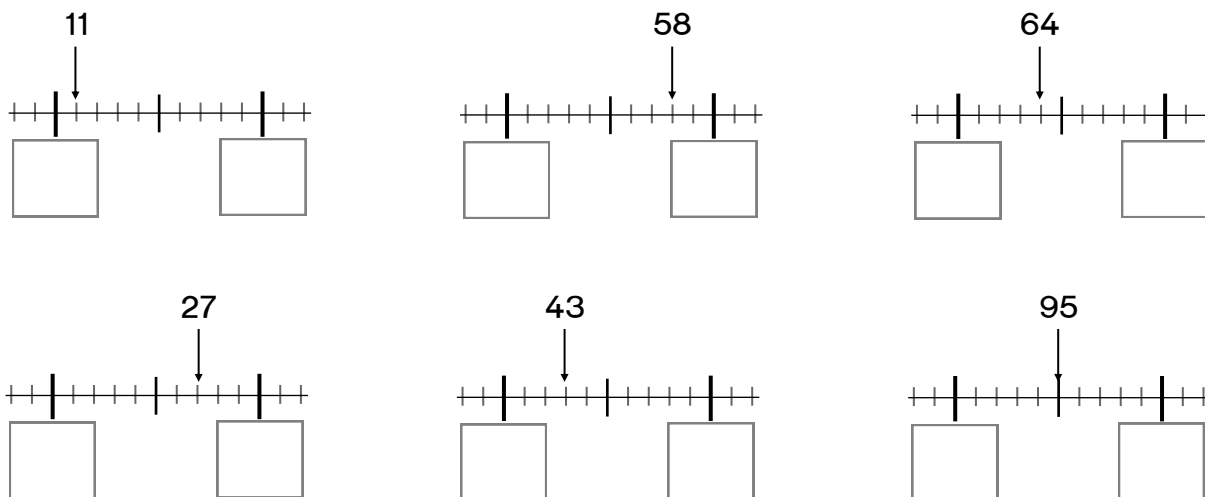


### 1. Zähle.

27 28 \_\_\_\_\_  
48 49 \_\_\_\_\_  
 \_\_\_\_\_ 62 63 \_\_\_\_\_  
 \_\_\_\_\_ \_\_\_\_\_ 99 100

### 2. Finde die Nachbarzehner.





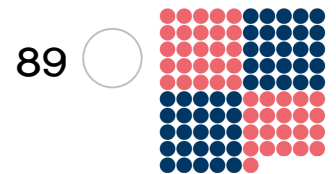
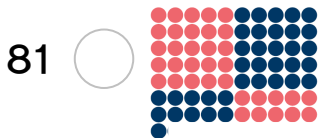

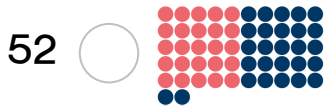
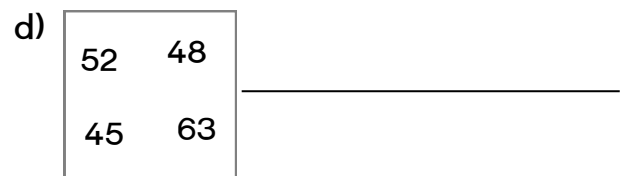
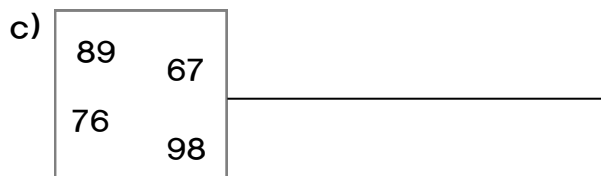
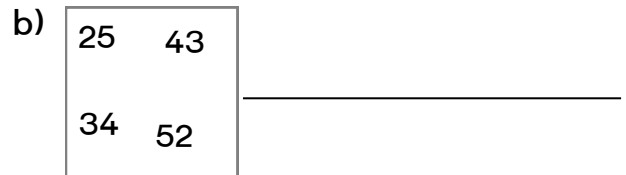
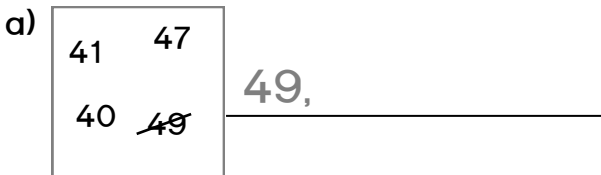
### 3. Nutze den Zahlenstrahl! Finde die Nachbarzehner.

a)

	Zahl	
20	22	30
	33	
	44	
	55	
	66	
	77	

b)

	Zahl	
	89	
	15	
	7	
	28	
	42	
	54	

**1. Vergleiche.** Setze ein  $<$ ,  $=$ ,  $>$ .

**2. Vergleiche.** Setze ein  $<$ ,  $=$ ,  $>$ .

**3. Ordne.** Beginne mit der größten Zahl.


**1. Zähle.**

	<u>36</u>	<u>37</u>								
					<u>63</u>	<u>64</u>				
					<u>82</u>	<u>83</u>				
									<u>94</u>	<u>95</u>

**2. 1 weniger – 1 mehr. Trage ein.**

1W <input style="width: 100%; height: 20px;" type="text"/>		1M <input style="width: 100%; height: 20px;" type="text"/>	1W <input style="width: 100%; height: 20px;" type="text"/>		1M <input style="width: 100%; height: 20px;" type="text"/>	1W <input style="width: 100%; height: 20px;" type="text"/>		1M <input style="width: 100%; height: 20px;" type="text"/>
1W <input style="width: 100%; height: 20px;" type="text"/>		1M <input style="width: 100%; height: 20px;" type="text"/>	1W <input style="width: 100%; height: 20px;" type="text"/>		1M <input style="width: 100%; height: 20px;" type="text"/>	1W <input style="width: 100%; height: 20px;" type="text"/>		1M <input style="width: 100%; height: 20px;" type="text"/>
1W <input style="width: 100%; height: 20px;" type="text"/>		1M <input style="width: 100%; height: 20px;" type="text"/>	1W <input style="width: 100%; height: 20px;" type="text"/>		1M <input style="width: 100%; height: 20px;" type="text"/>	1W <input style="width: 100%; height: 20px;" type="text"/>		1M <input style="width: 100%; height: 20px;" type="text"/>

**3. Trage den Vorgänger und den Nachfolger ein.**

a)

Vor-gänger	Zahl	Nach-folger
<input style="width: 100%; height: 20px;" type="text"/>	56	<input style="width: 100%; height: 20px;" type="text"/>
<input style="width: 100%; height: 20px;" type="text"/>	69	<input style="width: 100%; height: 20px;" type="text"/>
<input style="width: 100%; height: 20px;" type="text"/>	23	<input style="width: 100%; height: 20px;" type="text"/>
<input style="width: 100%; height: 20px;" type="text"/>	90	<input style="width: 100%; height: 20px;" type="text"/>
<input style="width: 100%; height: 20px;" type="text"/>	45	<input style="width: 100%; height: 20px;" type="text"/>

b)

Vorg-änger	Zahl	Nach-folger
<input style="width: 100%; height: 20px;" type="text"/>	60	<input style="width: 100%; height: 20px;" type="text"/>
<input style="width: 100%; height: 20px;" type="text"/>	70	<input style="width: 100%; height: 20px;" type="text"/>
<input style="width: 100%; height: 20px;" type="text"/>	80	<input style="width: 100%; height: 20px;" type="text"/>
<input style="width: 100%; height: 20px;" type="text"/>	90	<input style="width: 100%; height: 20px;" type="text"/>
<input style="width: 100%; height: 20px;" type="text"/>	100	<input style="width: 100%; height: 20px;" type="text"/>